






1 Dorysuj lub zaklej tyle plam, żeby ich liczba na każdym obrazku była zgodna z liczbą w ramce.

Dopasuj obliczenia do obrazków. Pokoloruj obliczenia kolorami, którymi są otoczone wyniki w ramkach.



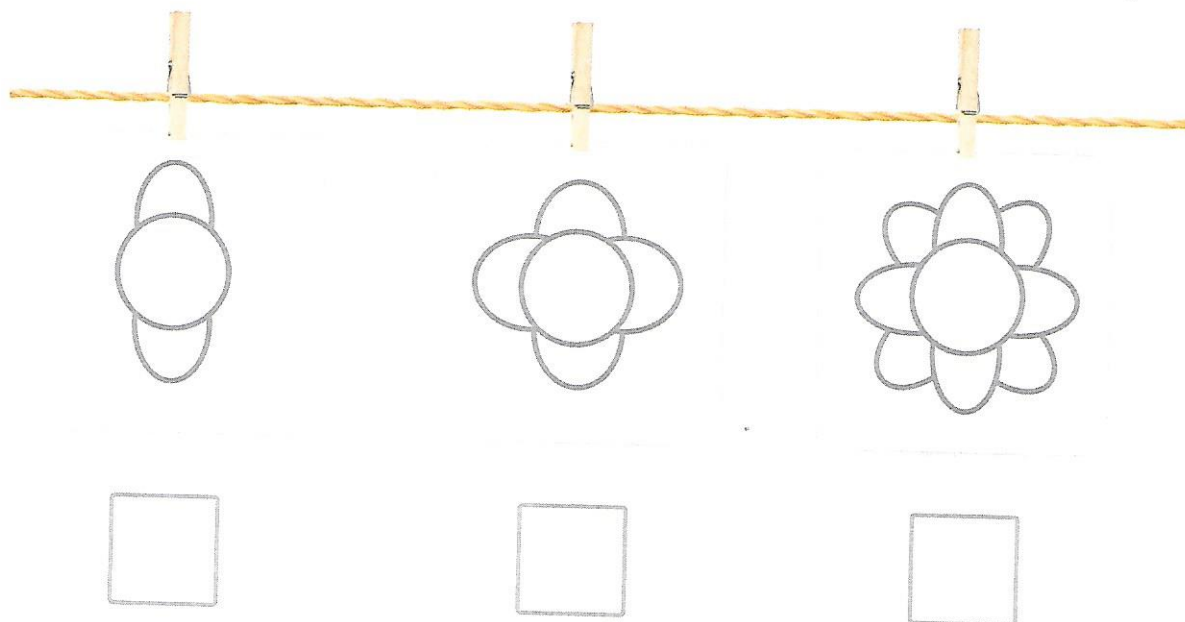
$$10 - 6$$

$$3 + 7$$

$$4 + 3$$

$$6 - 3$$

2 Malarz rozwiesił na sznurze serwetki. Pokoloruj każdą serwetkę inaczej, mając do dyspozycji kredki w 3 dowolnych kolorach. Ponumeruj serwetki od lewej do prawej.



- Ile płatków ma kwiat na 3. serwetce?

- Ile płatków mają razem kwiaty na 1. i 3. serwetce?