


1 Tomek, Sara i Bartek budowali z klocków. Każdy miał po 10. Policz, ile klocków wykorzystano każde dziecko. Narysuj pod każdą budowlą klocki, które nie zostały wykorzystane.


Otocz pętlą dziecko, które wykorzystało do budowy najwięcej klocków.




Tomek




Sara



Bartek



2 Policz, z ilu klocków został zbudowany zamek. Wyobraź sobie, że z budowli zabrano 3 klocki. Zaklej 3 dowolne klocki naklejkami tak, żeby budowla nie runęła. Ile klocków zostało? Uzupełnij obliczenie.



$$10 - \square = \square$$